

1. Jakie mogą być skutki zanieczyszczenia środowiska, które można zauważyć w wodzie:

- a) nadmierna roślinność i brak organizmów żywych
- b) liczne pęcherzyki powietrza wydobywające się z dna
- c) śnięte ryby, zmiana koloru wody, plamy olejowe, nienaturalny zapach

2. Co oznacza termin – jeziora oligotroficzne:

- a) jeziora zatrute i martwe
- b) jeziora wyjałowione z ryb i roślin
- c) zbiornik o niewielkiej zawartości soli pokarmowych, ubogiej roślinności

Proces biochemiczny polegający na wytwarzaniu związków organicznych z prostych związków

3. nieorganicznych zachodzący w komórkach zawierających chlorofil i przy udziale światła to:

- a) fotosynteza
- b) metabolizm
- c) hydroliza

4. Dendrologia to nauka o:

- a) trawach
- b) glebach
- c) drzewach

5. Silny, ciepły, suchy wiatr górski występujący w Polsce to:

- a) halny
- b) monsun
- c) pasat

6. W Polsce ścisłą ochroną objęte są wszystkie gatunki:

- a) ptaków
- b) gadów
- c) owadów

7. Które zdanie jest prawdziwe:

- a) Wędkarzowi wolno budować pomosty bez zgody użytkownika wód.
- b) Uprawniony do rybactwa nie może na danym łowisku wprowadzać żadnych ograniczeń.
- c) Wędkarzowi nie wolno stosować sztucznego światła w celu lokalizacji lub wabienia ryb.

8. Jak określa się wymiar ochronny ryby (poniżej którego nie można ryby zabierać):

- a) licząc łuski na linii bocznej
- b) oznacza długość od początku głowy do najdalszego krańca płetwy ogonowej
- c) oznacza długość od początku głowy do wcięcia płetwy ogonowej

9. Jaką minimalną długość powinno mieć wędzisko wędkarskie:

- a) 30 cm
- b) 230 cm
- c) 100 cm

Test wygenerowano: 18 czerwiec 2020, 23:23,19

10. Waggler to szałwik służy do połowu metodą:

- a) skróconego zestawu (na tyczkę)
- b) odległościową
- c) na żywca

W jakiej odległości można wędkować od rozstawionych i oznakowanych sieci i innych rybackich narzędzi
11. połowu:

- a) nie mniej niż 50 m
- b) nie mniej niż 150 m
- c) nie mniej niż 100 m

12. Młodzież w wieku od 7 do 14 roku życia zrzeszona w PZW może wędkować jednocześnie na:

- a) jedną wędkę
- b) trzy wędki
- c) dwie wędki

W ile haczyków może być wyposażona sztuczna przynęta używana do wędkowania poza łowieniem spod
13. lodu:

- a) dwa
- b) trzy
- c) nie jest określone

14. Czy Prezes Koła i Zarząd może przyjąć kandydata w poczet członków Koła PZW:

- a) bez egzaminu za osobistym poręczeniem
- b) po zdaniu egzaminu ze znajomości Statutu PZW
- c) po zdaniu egzaminu przed Komisją Egzaminacyjną

15. Która ryba wydziela charakterystyczny zapach podobny do świeżego ogórka:

- a) jazgarz
- b) stynka
- c) ukleja

16. Za niszczenie rybostanów naszych wód odpowiedzialne są:

- a) łabędzie
- b) kormorany
- c) bociany

17. Charakterystyczna cecha świnki to:

- a) kolec u nasady płetwy grzbietowej
- b) duża płetwa grzbietowa o tęczyowych barwach
- c) dolny otwór gębowy o zrogowaciałych wargach

18. Ryba zwana popularnie rapą to:

- a) kleń
- b) karp
- c) boleń

Test wygenerowano: 18 czerwiec 2020, 23:23,19

19. Która z ryb jest pod całkowitą ochroną prawną:

- a) czebaczek amurski
- b) strzebla błotna
- c) pstrąg źródlany

20. Która ryba żyje w morzu, a tarło odbywa w wodzie słodkiej:

- a) węgorz
- b) pstrąg tęczowy
- c) łosoś

21. Podaj wymiar ochronny sandacza:

- a) 50 cm
- b) 35 cm
- c) 45 cm

22. Która ryba nie jest chroniona prawem:

- a) trawianka
- b) babka czarnoplamka
- c) babka piaskowa

23. Podaj wymiar ochronny siei:

- a) 18 cm
- b) nie ma wymiaru ochronnego
- c) 35 cm

24. Które ryby mają wymiar ochronny 25 cm:


- a) sielawa, sieja, brzana
- b) certa, boleń, lipień, miętus
- c) kleń, lin, rozpiór, świnka,

25. Podaj okres ochronny troci jeziorowej:


- a) od 1 października do 31 grudnia
- b) od 1 września do 31 stycznia
- c) od 1 marca do 31 maja

Test wygenerowano: 18 czerwiec 2020, 23:23,19


26.



27.



28.



29.



30.



31.



ODPOWIEDZI Test ekol-wędk z dnia: 18 czerwiec 2020, 23:23,19

1. **C**
2. **C**
3. **A**
4. **C**
5. **A**
6. **B**
7. **C**
8. **B**
9. **A**
10. **B**
11. **A**
12. **C**
13. **A**
14. **C**
15. **B**
16. **B**
17. **C**
18. **C**
19. **B**
20. **C**
21. **C**
22. **A**
23. **C**
24. **C**
25. **B**

26.	Nazwa ryby: Sieja Okres ochronny: 15.10-31.12 Wymiar ochronny: 35 cm
27.	Nazwa ryby: Lipień Okres ochronny: 1.03-31.05 Wymiar ochronny: 30 cm
28.	Nazwa ryby: Tołpyga biała Okres ochronny: nie obowiązuje Wymiar ochronny: nie dotyczy
29.	Nazwa ryby: Różanka Okres ochronny: 1.01-31.12 Wymiar ochronny: nie dotyczy
30.	Nazwa rośliny: Osoka aloesowata
31.	Nazwa rośliny: Jezierza mniejsza